

## MIGRAÇÕES

- MIGRAÇÕES MUNDIAIS.
- MIGRAÇÕES NO BRASIL

**01.** (G1 - cps 2015) As migrações são movimentos de deslocamento temporário ou definitivo de pessoas de um lugar para outro.

Todos os dias, milhares de pessoas que moram em cidades vizinhas à cidade de São Paulo se deslocam para a capital para trabalhar ou estudar, voltando para casa no final de sua jornada.

Esse deslocamento cotidiano é conhecido como migração

- a) sazonal.
- b) pendular.
- c) permanente.
- d) inter-regional.
- e) de transumância.

**02.** (Fmp 2020) Considere o texto sobre deslocamento populacional.

A perseguição aos judeus e a outros grupos étnicos e religiosos, durante a Segunda Guerra Mundial, alertou o mundo para a necessidade de ampliar a proteção internacional às vítimas de perseguição e de estruturar um programa de asilo que envolvesse o maior número possível de países. Em meados dos anos 2010, o mundo conheceu o início de uma crise provocada pelo deslocamento geográfico de pessoas em dimensões globais. Trata-se da maior crise desta natureza desde a Segunda Guerra Mundial. Segundo dados da ONU, o número de pessoas deslocadas por guerras, perseguições de toda ordem e conflito, além daquelas que se deslocam devido a eventos ambientais extremos, atingia cerca de 60 milhões, considerando os que se deslocaram interna e externamente. Um dos maiores fluxos dessas pessoas passou a ocorrer do Oriente Médio e da África em direção à Europa.

LUCCI, A. et al. *Território e Sociedade no Mundo Globalizado*. Ensino Médio, 3. São Paulo: Saraiva, 2017, p. 185. Adaptado.

O deslocamento mencionado no texto refere-se à categoria demográfica especificamente denominada

- a) imigrante
- b) refugiado
- c) transumante
- d) emigrante
- e) repatriado

**03.** (Udesc 2019) Analise as proposições sobre os tipos de migrações frequentes no cotidiano da sociedade brasileira.

- I. Migração pendular é aquela em que o trabalhador muda de cidade dentro de uma região metropolitana, principalmente da cidade principal para outra próxima.
- II. Migração sazonal (transumância) é aquela em que os migrantes permanecem fora de seu lugar de origem durante determinado período, em geral a trabalho, e depois retornam ao lugar de origem onde ficam à espera de uma nova oportunidade.
- III. Na migração intrametropolitana, o trabalhador reside em uma cidade de certa região metropolitana e se desloca, diariamente, até a cidade principal ou à cidade vizinha para trabalhar ou estudar.
- IV. Migração cidade-cidade caracteriza-se pelo fluxo de pessoas entre diferentes cidades, em busca de melhores condições de vida.

Assinale a alternativa **correta**.

- a) Somente as afirmativas I e III são verdadeiras.
- b) Somente as afirmativas I e II são verdadeiras.
- c) Somente as afirmativas II e III são verdadeiras.
- d) Somente as afirmativas I e IV são verdadeiras.
- e) Somente as afirmativas II e IV são verdadeiras.



- 04.** (Ufrgs 2019) Leia o trecho da música Arrancado de Lá Luanda (Quando Eu Venho de Luanda), do Mestre Toni Vargas.

Quando eu venho de Luanda eu não venho só  
 Quando eu venho de Luanda eu não venho só  
 Quando eu venho de Luanda eu não venho só (coro)  
 Quando eu venho de Luanda eu não venho só (coro)

O trago meu corpo cansado, coração amargurado,  
 Saudade de fazer dó (...)

(...) Eu fui preso à traição trazido na covardia  
 Que se fosse luta honesta de lá ninguém me trazia  
 Na pele eu trouxe a noite na boca brilha o luar  
 Trago a força e a magia presente dos orixás

Eu trago ardendo nas costas o peso dessa maldade  
 Trago ecoando no peito o grito de liberdade  
 Que é grito de raça nobre grito de raça guerreira  
 Que é grito da raça negra, é grito de capoeira

Adaptado de: <<https://www.lettras.mus.br/mestre-toni-vargas/1930064/>>. Acesso em: 05 set. 2018.

A letra trata de um deslocamento chamado

- migração espontânea.
  - migração forçada.
  - transumância.
  - migração pendular.
  - êxodo rural.
- 05.** (Enem PPL 2019) Uma ação tomada por alguns países que pode funcionar é proporcionar bolsas de estudo e empréstimos para aqueles que querem estudar em centros universitários fora do país, com a contrapartida de que, após a conclusão da faculdade, essas pessoas possam pagar ao governo voltando e trabalhando no país de origem. Desburocratizar o exercício de certas profissões e incentivar centros de excelência também pode ajudar.

MALI, T. Disponível em: [www.ufjf.br](http://www.ufjf.br). Acesso em: 10 out. 2015 (adaptado).

As medidas governamentais descritas buscam conter a ocorrência do seguinte processo demográfico:

- Transferência de refugiados.
  - Deslocamento sazonal.
  - Movimento pendular.
  - Fuga de cérebros.
  - Fluxo de retorno.
- 06.** (Ufpr 2019) Apenas em 2017, 94 mil venezuelanos deram entrada em solicitações de refúgio em outras nações. De 2014 até 7 de março de 2018, 145,2 mil venezuelanos haviam pedido asilo em outros Estados. Números são da Agência da ONU para Refugiados (ACNUR), que emitiu novas orientações de proteção internacional para os governos de países que acolhem as pessoas deslocadas.  
 (Disponível em: <<https://nacoesunidas.org/numero-de-venezuelanos-pedindo-refugio-em-outros-paises-aumentou-20-vezes-desde-2014/>>, acesso em 23 de agosto de 2018.)

A partir da leitura do fragmento de texto acima, discorra sobre o sentido da expressão "pessoas deslocadas" e contextualize essa expressão em face do processo migratório.



07. (Uel 2021) Leia a charge e o texto a seguir.



Adaptado de: [esquerdaonline.com.br](http://esquerdaonline.com.br)

As experiências políticas ocorrem, principalmente, a partir do Estado-nação. No entanto, há muito tempo seus contornos se inscrevem também em movimentos e articulações que extrapolam suas fronteiras, conforme sugere a charge. Nos últimos anos, por exemplo, movimentos, líderes e governos de extrema-direita deram sinais de ascensão em todo o mundo: Donald Trump (E.U.A.), Victor Orbán (Hungria), Marie Le Pen (França), Matteo Savini (Itália), Norbert Hofer (Áustria). No caso dos governos com esse perfil, nota-se que, em sua atuação política, “[...] empregam estratégias notavelmente semelhantes [...]”

(LEVITSKY, Steven; ZIBLATT, Daniel. *Como as democracias morrem*. Rio de Janeiro: Zahhar, 2018, p. 18).

Considerando algumas das formas de poder e dominação presentes no recente cenário político norte-americano e europeu, assinale a alternativa que apresenta, corretamente, procedimentos que compõem algumas dessas estratégias.

- Tendência a posições autoritárias e acentuada retórica anti-imigração.
- Defesa da imprensa escrita tradicional com repúdio ao uso de redes sociais digitais.
- Forte apoio estatal a refugiados e rechaço às teses antiglobalistas.
- Valorização dos Direitos Humanos e estímulo aos movimentos de minorias raciais e sexuais.
- Denúncia da intolerância étnica e apego a uma pauta de valores progressistas baseados na Ciência.

08. (Famerp 2019) Acampamentos de imigrantes vindos da Venezuela foram destruídos por brasileiros em 18.08.2018, em Pacaraima (RR), na fronteira com o país vizinho, que sofre com uma crise humanitária e econômica.

([www.correiobraziliense.com.br](http://www.correiobraziliense.com.br), 18.08.2018. Adaptado.)

O excerto expressa uma ação de

- patriarcado, reconhecido pela Constituição Brasileira de 1988.
- terrorismo, intimidando o Estado para tomada de poder.
- nepotismo, exercido pelo poder público estadual.
- coronelismo, praticada por uma elite urbana.
- xenofobia, antipatia pelo que vem de fora.

09. (Uerj 2020)

### MEDITERRÂNEO É O MAIOR CEMITÉRIO DA EUROPA HOJE

Trata-se de um grave problema: as próprias leis da União Europeia e as convenções internacionais afirmam que os fugitivos salvos não podem ser levados de volta ao porto de embarque de onde escaparam da guerra, do terrorismo e da fome. Mas, ainda assim, todos os dias, dezenas de pessoas morrem durante a tentativa de atingir a Europa. Hoje, o Mediterrâneo virou o maior cemitério da Europa. Nós conhecemos apenas o número de vítimas que foram registradas através de fotos, posição e data. Contudo, para cada vítima divulgada oficialmente há um morto que nem aparece nas estatísticas. Vivemos uma situação absurda. A África é saqueada pelos países ocidentais, que depois não querem ver de perto o efeito de sua política. Os países europeus fecham suas fronteiras e ignoram que essas vítimas vão morrer justamente tentando fugir da situação que eles criaram.

CLAUS PETER REISCH Adaptado de [gazetaonline.com.br](http://gazetaonline.com.br), julho/2018.



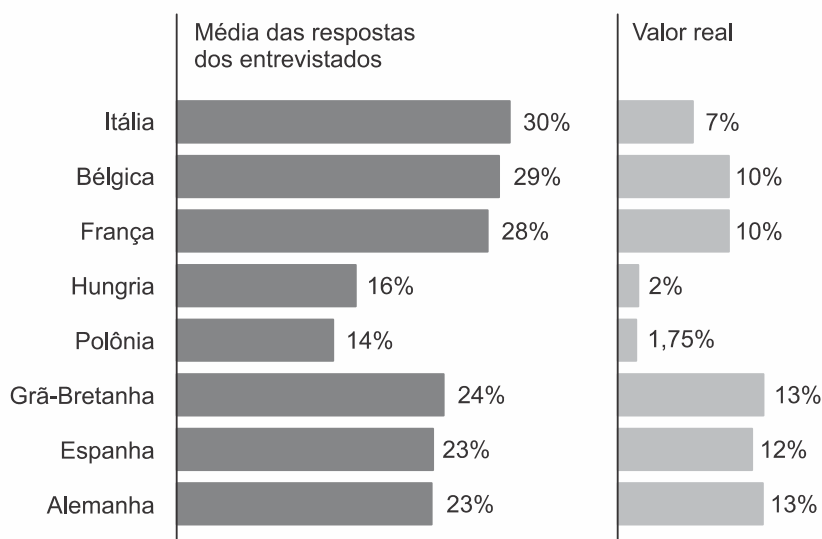
Em julho de 2018, Claus Peter Reisch, comandante do navio Lifeline, ficou sete dias no mar Mediterrâneo com 233 migrantes a bordo aguardando autorização para desembarcar em países europeus.

No que se refere às relações entre países africanos e governos europeus, a avaliação de Reisch para a crise migratória atual expressa a contradição entre os seguintes fatores:

- integração global e localismo étnico
- herança imperialista e nacionalismo xenófobo
- crise demográfica e modernização econômica
- dinamização comercial e desqualificação laboral

10. (Uerj 2020)

QUAL É O PERCENTUAL DE IMIGRANTES  
NA POPULAÇÃO EM SEU PAÍS? (2015)



Adaptado de vox.com.

Os gráficos acima são parte do resultado de uma pesquisa feita em 2015 sobre a percepção dos cidadãos de diferentes países acerca do fenômeno migratório.

A diferença entre o percentual médio estimado pelos que responderam à pergunta e o percentual real de imigrantes em cada população nacional expressa uma grande preocupação de cidadãos europeus na atualidade.

Uma consequência direta dessa preocupação é:

- ampliação dos programas de proteção social
- intensificação dos conflitos de caráter militar
- crescimento dos partidos de extrema-direita
- fortalecimento dos acordos de integração econômica



11. (Uerj 2014)



### A restituição da passagem

As famílias chegadas a Santos com passagens de 3ª classe, tendo pelo menos 3 pessoas de 12 a 45 anos, sendo agricultores e destinando-se à lavoura do estado de São Paulo, como colonos nas fazendas ou estabelecendo-se por conta própria em terras adquiridas ou arrendadas de particulares ou do governo, fora dos subúrbios da cidade, podem obter a restituição da quantia que tiverem pago por suas passagens.

Adaptado de *O imigrante*, nº 1, janeiro de 1908

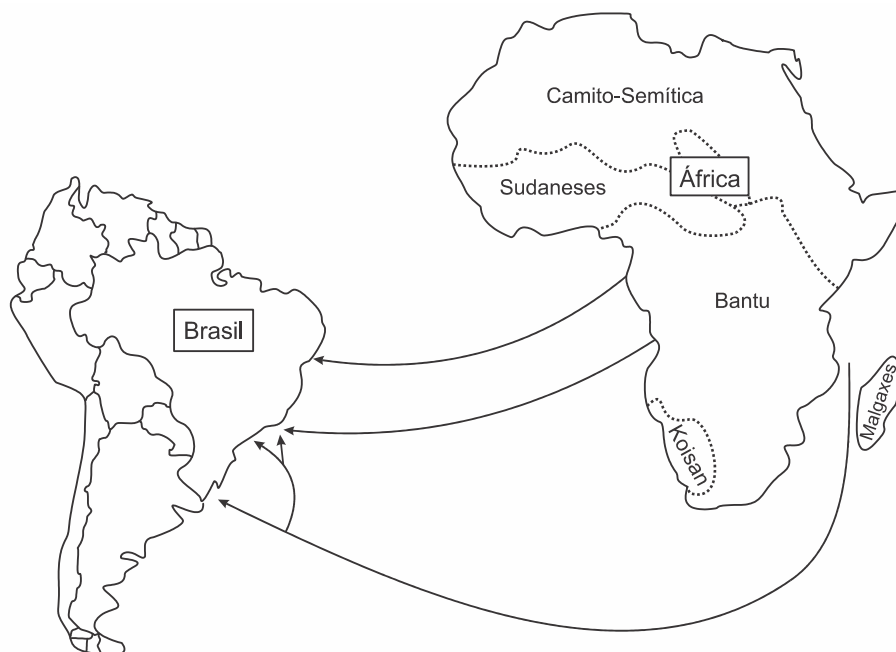
A publicação da revista *O imigrante* fazia parte das ações do governo de São Paulo que tinham como objetivo estimular, no final do século XIX e início do XX, a ida de imigrantes para o estado. Para isso, ofereciam-se inclusive subsídios, como indica o texto.

Essa diretriz paulista era parte integrante da política nacional da época que visava à garantia da:

- oferta de mão de obra para a cafeicultura
- ampliação dos núcleos urbanos no interior
- continuidade do processo de reforma agrária
- expansão dos limites territoriais da federação



12. (Ufrgs 2018) Observe o mapa abaixo.



Adaptado de: Rafael Sanzio Araújo dos Anjos. Geopolítica da diáspora África-América-Brasil séculos XV-XVI-XVII-XVIII-XIX. *Cartografia para a Educação*. Disponível em: <<http://www.rafaelsanziodosanjos.com.br>>. Acesso em: 12 out. 2017.

Considere as seguintes afirmações sobre a origem dos grupos étnicos africanos escravizados, trazidos para o Brasil entre os séculos XV e XIX.

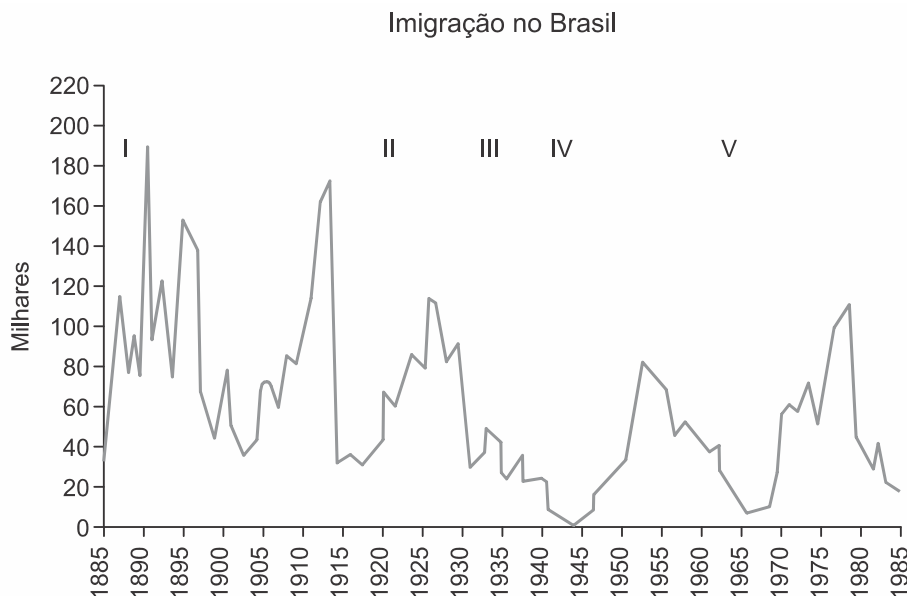
- I. A maior parte dos grupos étnicos são oriundos do norte da África.
- II. As principais áreas de saída de africanos foram os atuais territórios de Moçambique e Angola.
- III. Os grupos étnicos africanos escravizados, levados ao nordeste, vêm do leste da África, e aqueles levados para o sudeste e o sul são oriundos da África ocidental.

Quais estão corretas?

- a) Apenas I.
- b) Apenas II.
- c) Apenas III.
- d) Apenas II e III.
- e) I, II e III.



13. (Unesp 2019) Examine o gráfico.



(Marcos A. Moraes e Paulo S. S. Franco. *Geografia humana*, 2011. Adaptado.)

Na análise dos movimentos migratórios ao Brasil, o gráfico expressa os impactos

- da Lei de Cotas em II, com o controle sobre a entrada de estrangeiros, para evitar o aumento do desemprego no país.
- da Primeira Guerra Mundial em III, com o desinteresse pelo país devido à oposição à Tríplice Aliança.
- das leis de redução e abolição da escravatura em I, com o incentivo à vinda de imigrantes para compor a mão de obra nas fazendas cafeeiras.
- da Segunda Guerra Mundial em IV, com a interrupção no fluxo de imigrantes alemães a partir da adesão brasileira ao Eixo.
- do regime militar em V, com o combate à entrada de latino-americanos, em prol da europeização da sociedade brasileira.

14. (Fatec 2019) Poucos anos após a Independência do Brasil, o Império brasileiro estimulou a vinda de famílias europeias para o sul do país, principalmente para áreas onde hoje se situam os estados do Rio Grande do Sul e de Santa Catarina.

As famílias de imigrantes, que foram enviadas para o sul do país, no contexto citado, foram assentadas em

- colônias adquiridas por cooperativas agrícolas estrangeiras, para introduzir a cultura do algodão, em sistema de colonato.
- pequenas propriedades doadas pelo governo, para garantir a soberania nacional em um território pouco povoado.
- grandes latifúndios controlados pela elite estrangeira, para trabalhar nas lavouras de café destinadas à exportação.
- minifúndios monocultores de cana-de-açúcar, para substituir a mão de obra de pessoas escravizadas.
- sesmarias controladas pelo governo imperial, para atuar na implantação da cultura da soja no Brasil.

15. (Unesp 2014) Nos três primeiros meses de 2013, entraram no território brasileiro cerca de três mil pessoas vindas do Haiti. O aumento substancial no fluxo de entrada de haitianos no país se deu principalmente pelo pequeno município de Brasileia, no Estado do Acre. A cidade, com cerca de 20 mil habitantes, faz fronteira com a Bolívia e o Peru, e, de janeiro ao final de março, viu chegar um número estimado de 2 mil imigrantes haitianos.

(<http://brazilianpost.co.uk>. Adaptado.)

Aponte dois motivos que expliquem o aumento recente da migração de haitianos para o Brasil. Explique a diferença entre esse fluxo migratório de haitianos para o Brasil e a maioria dos fluxos migratórios instalados no mundo na segunda metade do século XX.



16. (Uel 2015) Leia o texto a seguir.

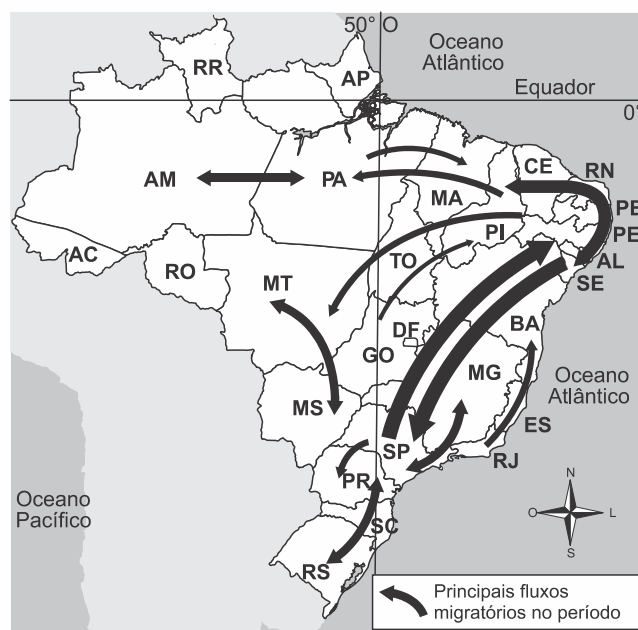
As estimativas sobre o real tamanho da comunidade boliviana em São Paulo apresentam uma enorme variação: o Consulado da Bolívia calcula 50 mil indocumentados, a Pastoral dos Imigrantes acredita habitarem 70 mil bolivianos indocumentados em São Paulo, sendo 35 mil só no bairro do Brás; o Ministério do Trabalho e Emprego tem uma estimativa que varia entre 10 e 30 mil indocumentados; o Ministério Público fala em 200 mil bolivianos ao todo (regulares e irregulares). Consenso entre essas estimativas é o fato de São Paulo abrigar o maior número de imigrantes bolivianos no Brasil.

CYMBALISTA, R.; XAVIER, I. R. "A comunidade boliviana em São Paulo: definindo padrões de territorialidade". *Cadernos Metrópole*, 17, p.119-133, 1º sem. 2007. Disponível em: <<http://revistas.pucsp.br/index.php/metroполе/article/view/8767/6492>>. Acesso em: 1 jun. 2014.

Os bolivianos compõem a comunidade mais numerosa de imigrantes recentes na cidade de São Paulo. Descreva este fluxo migratório, destacando as características dessa população quanto a tipo de atividade exercida, às condições de trabalho a que está submetida e ao perfil desses trabalhadores.

17. (Espm 2018) Observe o mapa a seguir:

### Brasil: migração (2000 - 2010)



Fonte: Maria Elena Simielli. *Geoatlas*. 13 ed. São Paulo: Ática, 2013, p. 35.

No período indicado destaca-se a:

- forte migração para o sertão nordestino motivado por uma nova corrida do ouro.
- migração de nordestinos para São Paulo motivada pela expansão da soja.
- atração de migrantes sulistas para o sertão nordestino para atuar na fruticultura.
- forte migração de retorno de nordestinos.
- migração de vários pontos do país para a Amazônia motivada pela mineração.

18. (Uem-pas 2017) As tendências recentes do fenômeno migratório no Brasil mostram que houve uma diminuição da migração para São Paulo e um fluxo de retorno de migrantes para o Nordeste devido à implantação da indústria do turismo e de outras empresas de diversos setores da economia na região. No entanto, os deslocamentos de população no território brasileiro sempre foram frequentes desde o fim do ciclo da cana-de-açúcar no Nordeste, e do ouro em Minas Gerais.

Sobre os fluxos migratórios e o deslocamento de populações no Brasil, no século XIX, assinale o que for **correto**:

- A economia da borracha foi responsável pela atração de milhares de nordestinos para os seringais da Amazônia, no início do século XIX, quando o governo imperial resolveu investir na ocupação da região Centro-oeste e desenvolver a economia extrativa. Esse processo foi denominado "ciclo da borracha".
- No Oeste Paulista, a expansão do café foi realizada em áreas de solo e de clima favoráveis à atividade. A economia do café e a abertura de ferrovias foram fatores responsáveis pelo surgimento, nessa região, de vilas e de cidades formadas por imigrantes europeus.
- A colonização da região Sul, baseada na modernização da agricultura, a partir do final do século XIX, atraiu para a região um grande contingente populacional que veio para trabalhar com os novos maquinários e nos modernos processos de produção agrícola. Isso tornou a região a principal área de produção da agricultura familiar, baseada na policultura.





- 08) No final do século XIX, no Paraná, além das migrações interestaduais, contribuíram para o crescimento populacional, as migrações sazonais, ou seja, aquelas em que milhares de trabalhadores se deslocam diariamente de suas moradias para os seus locais de trabalho e, destes, de volta para suas moradias, principalmente na região Norte.
- 16) A partir do século XVII, na região Nordeste, a criação de gado se deslocou para o interior, nos vales dos rios Parnaíba e São Francisco, no sertão. Nos pontos de contato entre o sertão pastoril e o litoral agrícola surgiram inúmeros povoados.

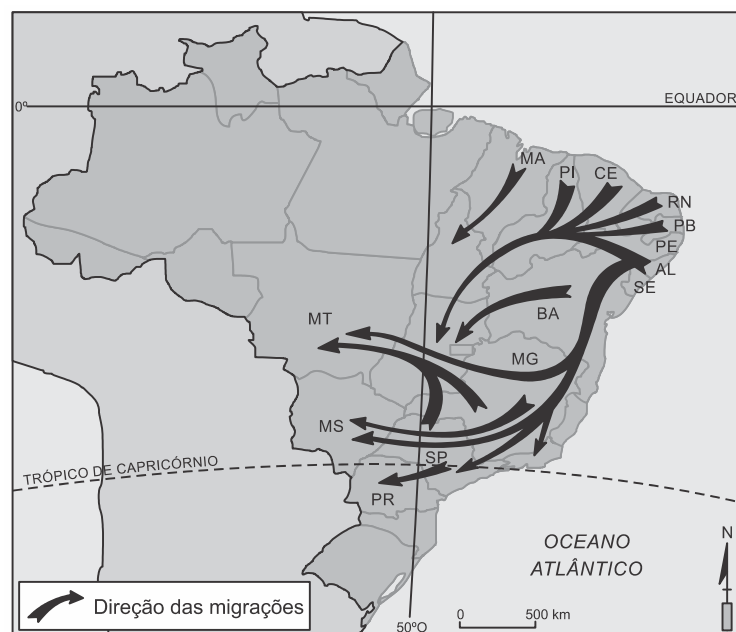
**19.** (Unesp 2016)

<b>Migrações inter-regionais segundo as grandes regiões, 2005-2010</b>			
Grandes regiões	Imigrantes	Emigrantes	Saldo migratório líquido
Norte	297.152	260.670	36.482
Nordeste	571.335	1.272.413	-701.078
Sudeste	1.163.575	838.080	325.495
Sul	345.184	268.892	76.292
Centro-Oeste	604.048	341.240	262.808

(Leila R. Ervatti et al. *Mudança demográfica no Brasil no início do século XXI*, 2015. Adaptado.)

A partir da análise da tabela, identifique a principal região de repulsão e a principal região de atração populacional do território brasileiro, explicitando, para cada uma delas, um fator socioeconômico que contribuiu para essa condição.

- 20.** (Uern 2015) Desde o surgimento do homem, a busca por sobrevivência foi um dos principais objetivos das pessoas que migravam. Hoje, as migrações se dão por conta de fatores econômicos, conflitos regionais, falta de recursos naturais essenciais à vida, entre outros. Considerando o espaço de deslocamento populacional no mapa a seguir, é correto afirmar que ele retrata



- o movimento migratório de retorno, verificado após a década de 1990, devido aos investimentos e à atração econômica exercida por outras regiões.
- as migrações inter-regionais, de 1960 até 1970, devido à construção da Zona Franca de Manaus, o café, no Paraná, e as terras para a agropecuária, no Mato Grosso.
- as migrações internas no Brasil, de 1940 a 1950, graças à expansão da fronteira agrícola para a região Sul, especialmente no Paraná, e a criação de colônias agrícolas no Centro-Oeste.
- as migrações intra-regionais ocorridas entre as décadas de 70 e 80, graças ao processo de industrialização que atraiu migrantes para São Paulo, Rio de Janeiro, e a construção de Brasília que intensificou a migração para Goiás.