



8º ano

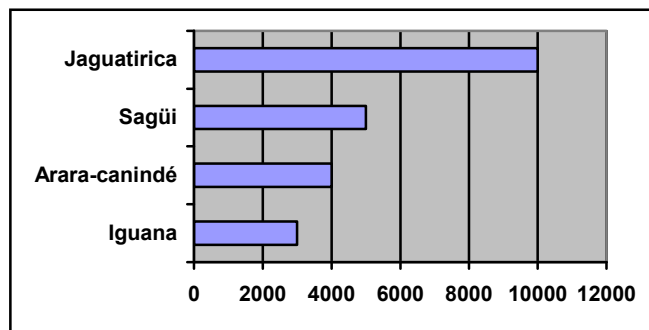
Matemática

Tarefa 02 – Professor Mário

01. A partir do desempenho em química demonstrado pelos alunos de uma turma, um professor elaborou a seguinte tabela, e os gráficos.

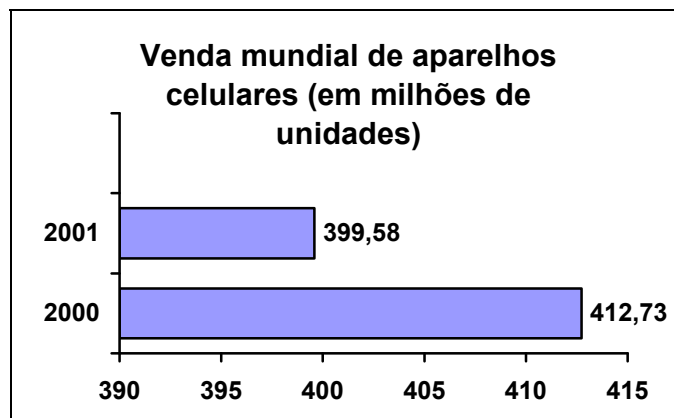
Desempenho	f	fr
Insuficiente	6	15%
Regular	10	25%
Bom	14	35%
Ótimo	10	25%
Total	40	100%

02. O tráfico de animais no Brasil cresce a cada dia. O gráfico de barras a seguir revela quais são os animais silvestres brasileiros mais procurados e o preço deles, em dólar, no mercado internacional.



Observando o gráfico acima, podemos concluir, que dos animais que se destacam, o _____ é o mais barato e _____ é o mais caro.

03. O gráfico abaixo apresenta o número de aparelhos celulares vendidos mundialmente no ano de 2000 e 2001.



De acordo com o gráfico, responda:

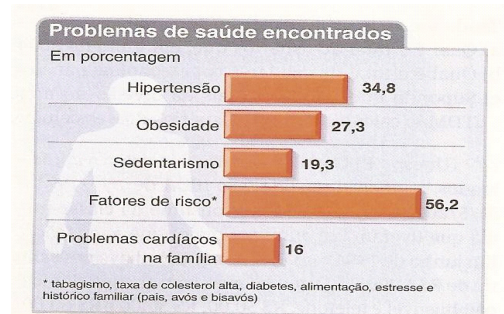
- Em que ano ocorreu a maior venda de celulares?
- Nesse período, a venda de celulares aumentou ou diminuiu?



04. Dada a tabela de frequência e a taxa percentual, construa o gráfico em barras.

País	Milhões de Ovinos	fr
EUA	10	10%
Uruguai	15	15%
Peru	15	15%
Brasil	25	25%
Argentina	35	35%
	100	100%

05. Uma pesquisa feita com 336 adolescentes de um condomínio, sendo 50% de cada sexo, revela alguns problemas de saúde. A soma dos dados percentuais ultrapassa 100%, pois cada adolescente entrevistado pôde apresentar mais de um problema.



- Quantas meninas foram entrevistadas nessa pesquisa?
 - Quantos jovens são hipertensos?
 - Quantos jovens têm problemas cardíacos na família?
 - Com esses dados seria possível construir um gráfico de setores?
06. Imagine que se perguntou a 1000 pessoas se elas acreditavam em horóscopo. Dessas 1000 pessoas, 488 disseram acreditar, 292 disseram não acreditar, 120 disseram que tinham dúvidas e as restantes expressaram opiniões diversas. Faça um GRÁFICO DE BARRAS para apresentar esses dados.