




7º ano Matemática

Tarefa 01 – Professor Regis

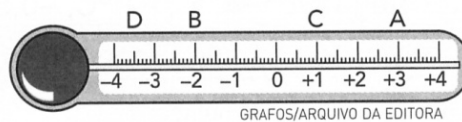
01. O que são números?
02. Quais são as funções dos números?
03. Observe.



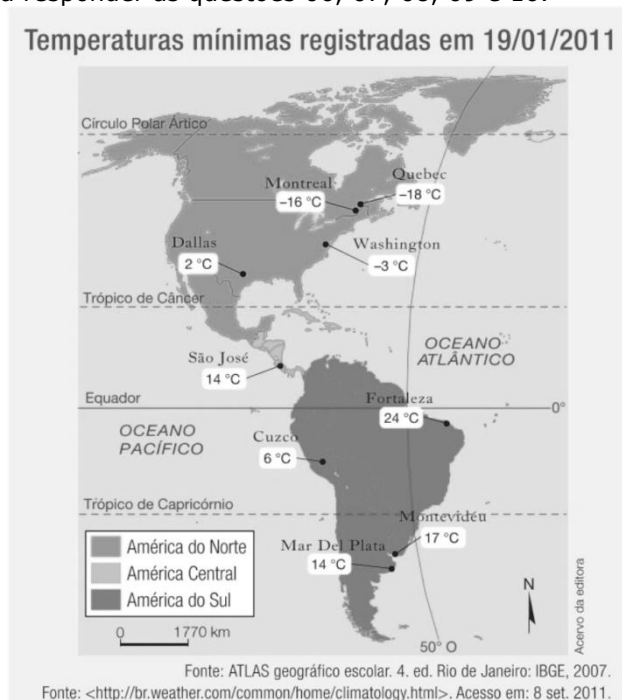
De acordo com a cena, onde os números:

- a) representam quantidades?
- b) servem para identificar?
- c) estabelecem ordem?
- d) expressam medidas?

04. O que são números negativos?
05. Escreva os números correspondentes às temperaturas em A, B, C e D no termômetro da figura.



Utilize o mapa abaixo para responder as questões 06, 07, 08, 09 e 10.





- 06.** Quais cidades apresentaram temperaturas negativas?
- 07.** Qual foi a menor temperatura registrada entre as cidades apresentadas? Em que cidade ocorreu essa temperatura?
- 08.** Entre as cidades de Cuzco e Montreal, qual apresentou menor temperatura? **09.** A temperatura mínima registrada em Fortaleza foi quantos graus superior à registrada em Washington?
- 10.** Alguma cidade da América Central ou do Sul apresentou temperatura negativa?

Utilize o extrato abaixo para responder as questões 11 e 12

Data	Histórico	Valor
Banco Desconto 21/2/2010 11:45 Extrato de conta corrente – Saldo: +1 199,00 Nome: Antônio Almeida Costa Agência: 026 Conta: 012345-6		
12/2	Saldo anterior	+325,00
13/2	Cheque compensado (débito)	-65,00
	Saque cartão (débito)	-100,00
	Depósito (crédito)	+720,00
15/2	Pagamento conta luz (débito)	-46,00
	Cheque compensado (débito)	-137,00
16/2	Cheque compensado (débito)	-96,00
	Pagamento conta telefone (débito)	-104,00
20/2	Depósito (crédito)	+650,00
21/2	Depósito (crédito)	+130,00
	Saque cartão (débito)	-78,00

- 11.** Qual o valor total dos débitos no extrato do Sr. Antônio? E dos créditos?
- 12.** Qual o saldo do extrato do Sr. Antônio no final do dia 21/02?