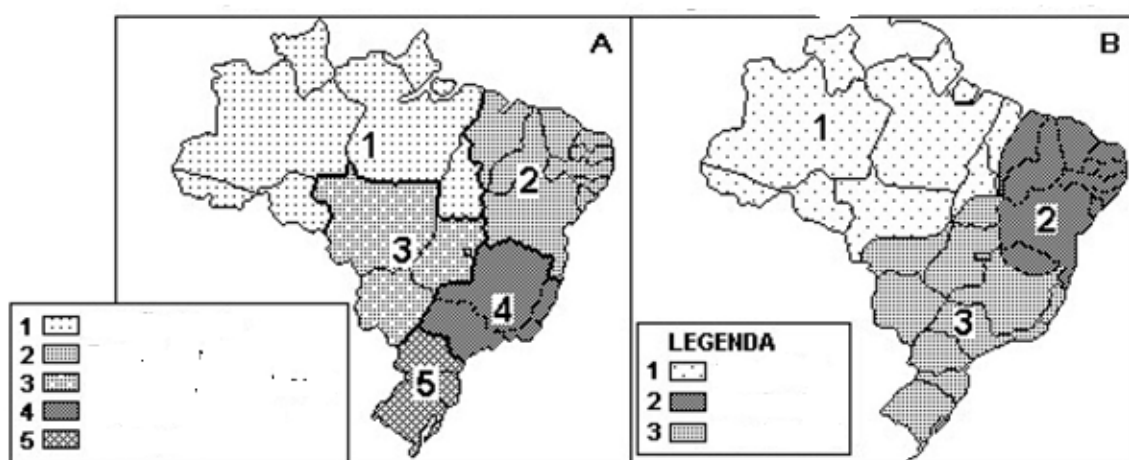




## 2ª Série Geografia

### Tarefa 19 – Professor Carlos Eduardo

01. Apresente a divisão política-administrativa do Brasil.
02. Em pleno século XXI é possível surgir novos estados no território brasileiro? Fundamente sua resposta.
03. Descreva as características dos três poderes da República Federativa do Brasil.
04. Os poderes da República Federativa do Brasil são independentes, entretanto, harmônicos entre si. Justifique essa afirmação.
05. Observe o mapa abaixo e responda as questões propostas.



MOREIRA, Igor. *O espaço geográfico: Geografia geral e do Brasil*. 39. ed. São Paulo: Ática, 1998, p. 262. (Adaptado).

- a) Indique um título para os mapas **A** e **B**. Em seguida, complete a legenda dos respectivos mapas.
  - b) Apresente as principais diferenças entre os mapas propostos.
06. O órgão responsável por criar a divisão regional oficial do Brasil é o Instituto Brasileiro de Geografia e Estatística (IBGE). Essa regionalização é considerada oficial por ser adotada em pesquisas, planejamento e execução de políticas públicas pelos governantes brasileiros. Sobre o processo de regionalização do Brasil e suas características, assinale V (verdadeiro) ou F (falso) para as alternativas.
- a) Em 1940, a divisão regional do Brasil apresentava cinco regiões: Norte, Nordeste, Centro, Este e Sul. A região Centro era formada por MT, GO e MG.
  - b) Em 1945, o Brasil passou a ter seis regiões e a porção Sul era composta por RS, SC, PR e SP, além do Território do Iguçu.
  - c) A região Sudoeste era composta por BA, MG, ES, RJ e GB, em 1960.
  - d) Após a Constituição de 1988, o Brasil passou por nova alteração. Além da criação do estado do Tocantins, os territórios do Amapá e Fernando de Noronha foram elevados a categoria de estado.
  - e) Após a Constituição de 1988, o Brasil passou por nova alteração, surgindo apenas o estado do Tocantins.
07. As regiões geoeconômicas do Brasil apresentam características peculiares. Sobre elas, é correto afirmar:
- a) O Meio-Norte, localizado no Nordeste oriental, é uma área de transição cuja economia está baseada na indústria minerometalúrgica, tendo uma produção destinada ao mercado externo.
  - b) A Região Centro-Sul abrange quase um terço do território brasileiro e possui os maiores contrastes internos, sendo a que mais absorve a PEA.
  - c) A Zona da Mata Mineira, em relação às demais da Região Centro-Sul, é a que mais cresceu na última década, devido à extração mineral e à descoberta de urânio.
  - d) A Região Sul caracteriza-se pela geografia pouco acidentada, pelo desenvolvimento homogêneo dos estados, além de apresentar os melhores IDH do país.
  - e) A Amazônia é dominada, ainda, pela natureza, as atividades econômicas são diversificadas e, atualmente, é a região que mais recebe imigrantes, devido às suas potencialidades naturais e aos estímulos fiscais.

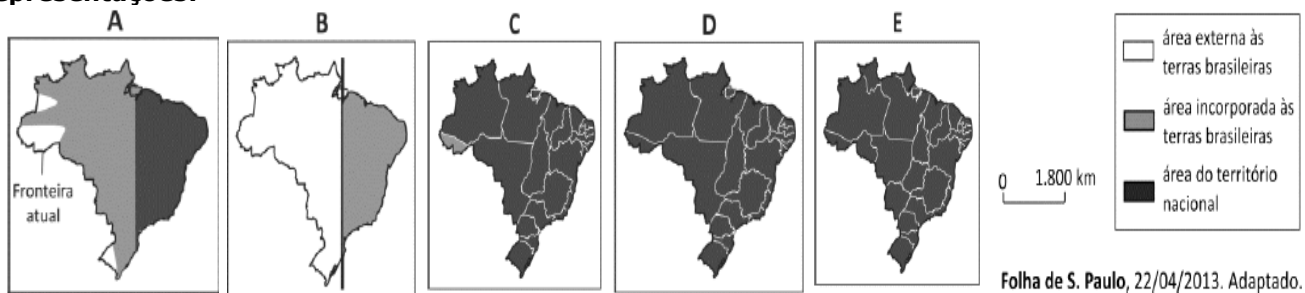


- 08.** Assinale a alternativa que indica a correta relação entre a região brasileira, a atividade econômica existente, o uso de tecnologia e o relevo em que se desenvolve.
- Região Sul – pecuária – melhoria genética – chapadões
  - Região Nordeste – pecuária extensiva – melhoria genética – planície costeira
  - Região Centro-oeste – agricultura comercial – irrigação – chapadões
  - Região Centro-oeste – agricultura de subsistência – sementes modificadas – serras
  - Região Sul – agricultura comercial – terraceamento – planície costeira
- 09.** Após o Tratado de Tordesilhas (1494), por meio do qual Portugal e Espanha dividiram as terras emersas com uma linha imaginária, verifica-se um “descobrimto gradual” do atual território brasileiro. Tendo em vista o processo da formação territorial do País, considere as ocorrências e as representações abaixo:

**Ocorrências:**

- Tratado de Madrid (1750);
- Tratado de Petrópolis (1903);
- Constituição da República Federativa do Brasil (1988)/consolidação da atual divisão dos Estados.

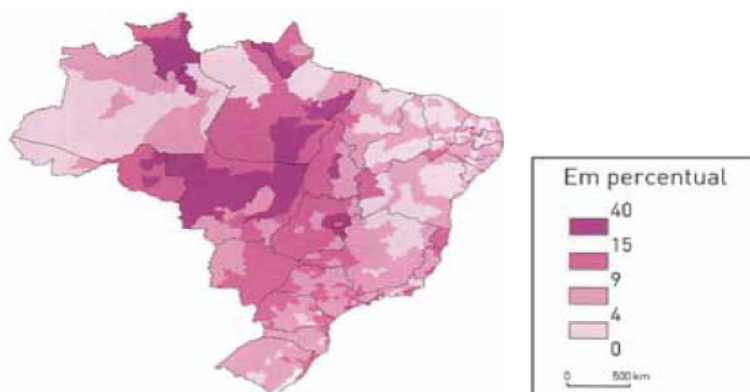
**Representações:**



Associe a ocorrência com sua correta representação:

	I	II	III
a)	A	C	E
b)	B	C	E
c)	C	B	E
d)	A	B	D
e)	C	A	D

**10** Percentual dos migrantes na população em 1996



THÉRY, Hervé; MELLO, Neli A. de. *Atlas do Brasil: disparidades e dinâmicas do território*. São Paulo: EDUSP/Imprensa Oficial, 2008.

Com base no mapa, é possível associar a macrorregião brasileira com maior proporção de migrantes à presença da seguinte dinâmica socioespacial:

- Criação de área turística
- Formação de distrito industrial
- Ampliação de reserva ambiental
- Expansão da fronteira agropecuária
- Maior desenvolvimento industrial do momento