

# 1ª Série Geografia

## Tarefa 10 professor Carlos

### Frente C

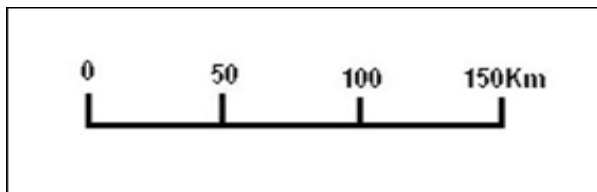
Conteúdo: Módulo C06

**01.** Qual é a escala maior entre as alternativas abaixo? Fundamente sua resposta.

- a) 1: 1 000 000
- b) 1: 10 000
- c) 1: 1 000
- d) 1: 5 00 000

**02.** Indique a escala maior entre as alternativas abaixo. Fundamente sua resposta.

a)



b)



**03.** Classifique as escalas abaixo em numérica ou gráfica.

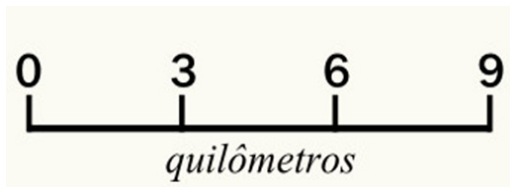
a) 1: 34 000

b)



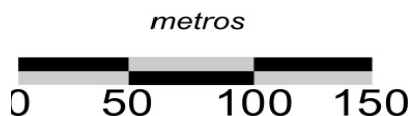
c) 1: 45 000

d)

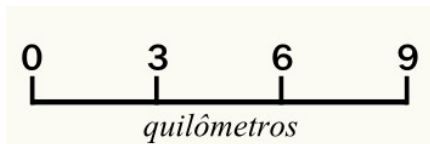


**04.** Apresente a leitura das escalas abaixo.

a)



b)



a) 1: 100

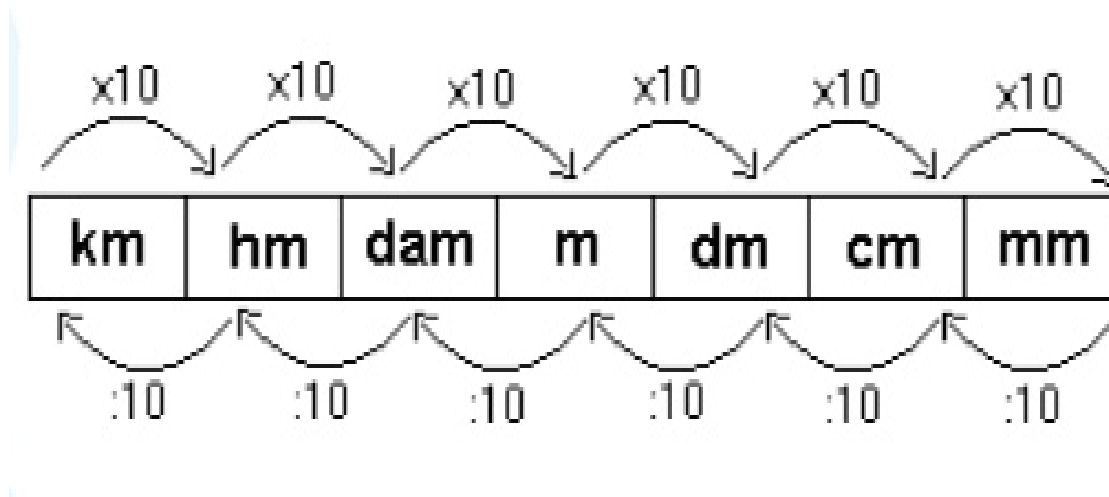
b) 1: 1 000 000



05. Qual é a escala maior? A do mapa do Brasil ou a do mapa do estado do Rio de Janeiro?



06. Identifique as unidades de medida de comprimento abaixo.



07. Transforme os números (KM) abaixo em centímetros (CM):

**OBSERVAÇÃO:** ANDE CINCO CASAS À DIREITA (ACRESTENTE EM CADA CASA UM ZERO).

**EX:**

10 km - 1 000 000 cm

- a) 850 km-
- b) 28 km -
- c) 8 km -

08. Transforme os números (CM) abaixo em quilômetros ( KM):

**OBSERVAÇÃO:** ANDE CINCO CASAS À ESQUERDA (RETIRE UM ZERO EM CADA CASA).

**EX:**

100 000 cm - 1km

- a) 55 000 000 cm-
- b) 340 000 cm-
- c) 450 000 cm-



- 09.** A figura apresenta dois mapas, em que o estado do Rio de Janeiro é visto em diferentes escalas.  
A figura apresenta dois mapas, em que o estado do Rio de Janeiro é visto em diferentes escalas.

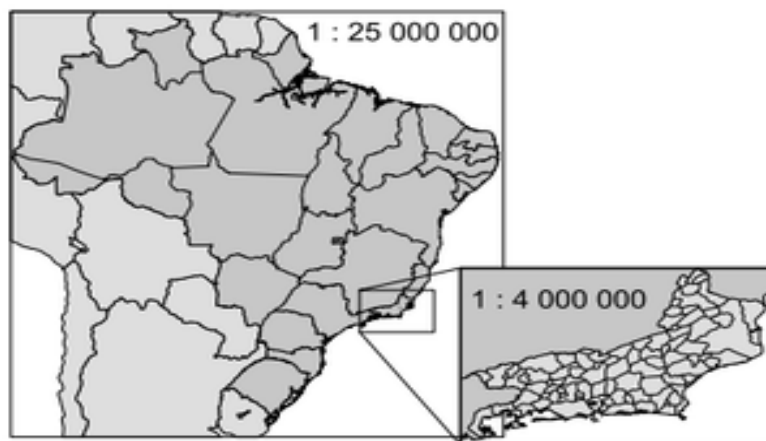


Imagem (Foto: Reprodução/Enem)

Há interesse em estimar o número de vezes que foi ampliada a área correspondente ao mapa do estado do Rio de Janeiro.

Quantas vezes o mapa do Rio de Janeiro foi ampliado em relação ao mapa do Brasil?

- 10.** A distância entre as cidades de São Paulo e Ubatuba é de aproximadamente **240 km**. Utilizando-se uma carta topográfica, essa distância, medida com auxílio de uma régua, é de **30 cm**, o que pode ser representado por uma escala numérica.  
Indique a escala numérica utilizada nesse mapa.