



| | | | |
|--------------------------------------|------------------|---------------------------|--------------------|
| MÓDULOS I e II – p. 418 a 423 | | | |
| 1ºEM FRENTE C | GEOGRAFIA | PROF. LUIZ GUSTAVO | 1º BIMESTRE |

EXERCÍCIOS COMPLEMENTARES

ORIENTAÇÃO NO ESPAÇO GEOGRÁFICO E COORDENADAS GEOGRÁFICAS

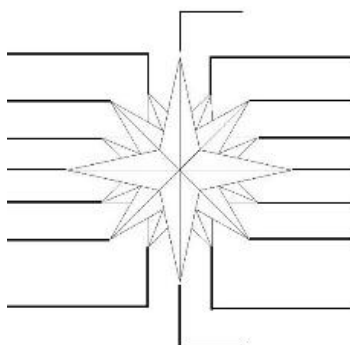


Observação: NÃO é obrigatória a impressão deste material.

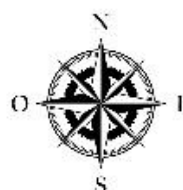
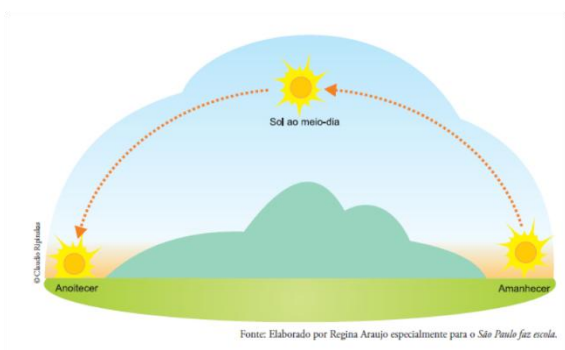
Questão 1. Indique os nomes e siglas das seguintes orientações geográficas:

- a) Pontos Cardeais.
- b) Pontos Colaterais
- c) Pontos Subcolaterais

Questão 2. Preencha a Rosa dos ventos a seguir.



MOVIMENTO APARENTE DO SOL

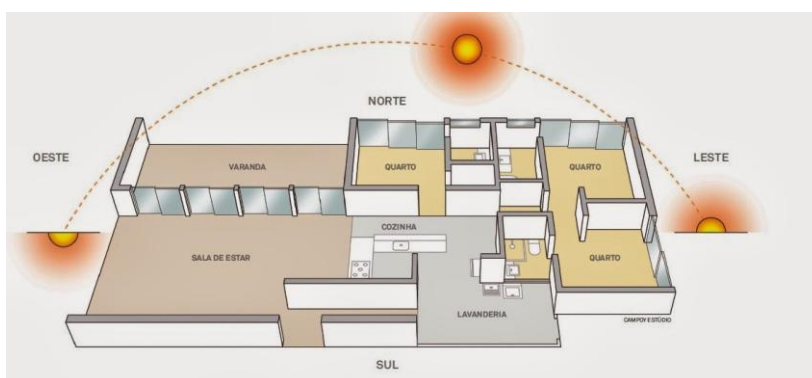


Questão 3. Observe o esquema a seguir.




A representação do menino acima registra 17h. Com base nos estudos feitos em sala de aula, indique o Ponto Cardeal Sul.

Questão 4. Leia o esquema abaixo.



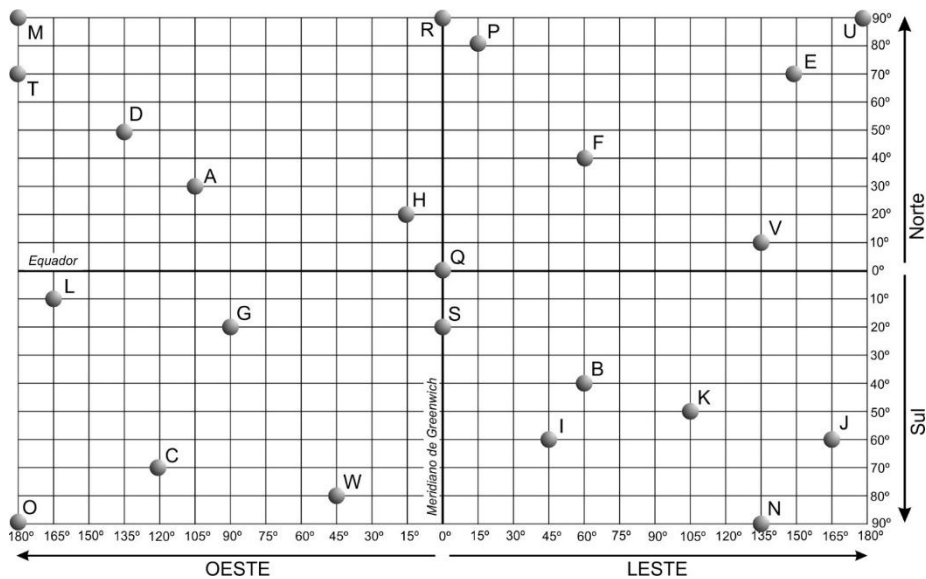
A sala de estar está posicionada em qual orientação geográfica?

Questão 5. Sabendo-se que são 16h30min, complete as informações do desenho abaixo.



COORDENADAS GEOGRÁFICAS

Para fazer às questões 6 e 7, utilize o planisfério a seguir como referência



Questão 6. Analise e julgue se as frases a seguir são **verdadeiras** ou **falsas**:

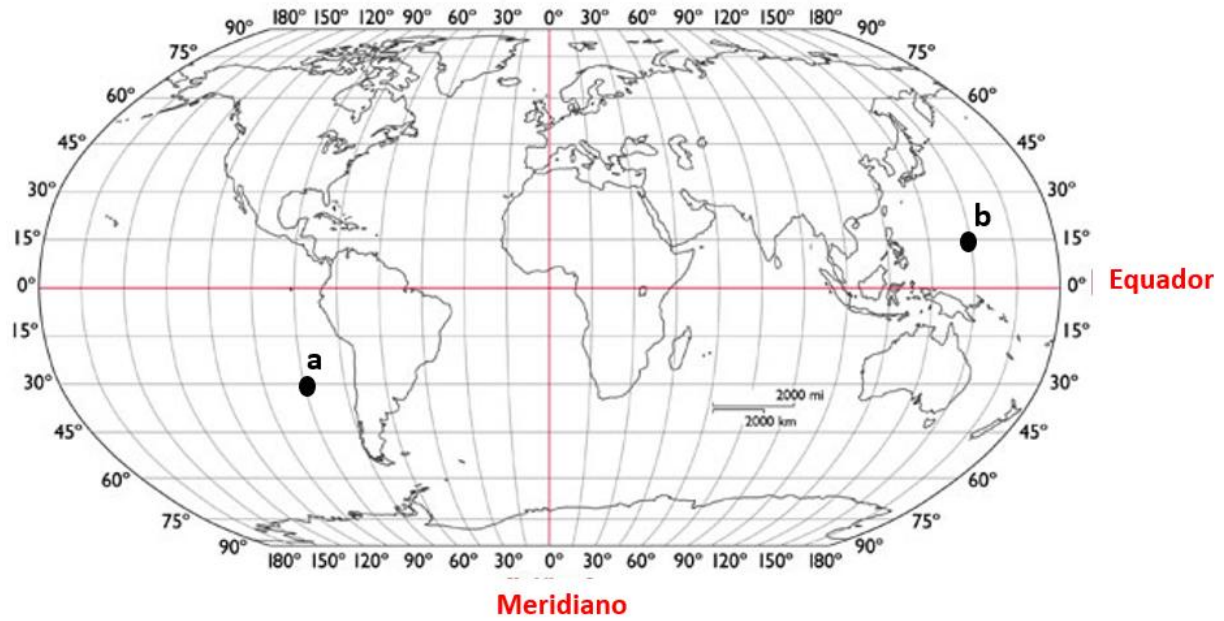
- O ponto C está nos Hemisférios Sul e Oeste.
- O ponto F está nos Hemisférios Setentrional e Nascente.
- O ponto A está nos Hemisférios Boreal e Oriental.
- A diferença longitudinal (em graus), entre os pontos D e A, são de 30°.
- A diferença longitudinal (em graus), entre os pontos L e I, são de 210°.
- A diferença longitudinal (em graus), entre os pontos L e S, são de 165°.
- A diferença latitudinal (em graus), entre os pontos A e B, são de 165°.
- A diferença latitudinal (em graus), entre os pontos G e C, são de 50°.
- A diferença latitudinal (em km), entre os pontos D e O, são de aproximadamente 15.556,8 km.
- A diferença latitudinal (em km), entre os pontos I e N, são de aproximadamente 3.600 km.

Questão 7. Faça a indicação das coordenadas geográficas dos pontos indicados abaixo, conforme exemplo a seguir.

Ponto A. Lat. 30° Norte e Long. 105° Oeste.

Pontos: B, C, D, E, F, G, H, I e J. Na feitura dos exercícios, **utilize somente**, os termos **Austral, Meridional, Boreal, Setentrional, Oriental, Nascente, Ocidental e poente**.

Questão 8. Analise as coordenadas geográficas do planisfério abaixo



Indique às antípodas latitudinal e longitudinal dos pontos **a** e **b**.

Bons estudos!!

Abração do Profão!!