

LISTA DE EXERCÍCIOS COMPLEMENTARES 2

1ºEM

GEOGRAFIA FÍSICA

LUIZ GUSTAVO PROFÃO

1º Bimestre

ORIENTAÇÃO GEOGRÁFICA

COORDENADAS GEOGRÁFICA

GABARITO

Observação: NÃO é obrigatória a impressão deste material. Coloque, somente, as respostas das questões em seu caderno.

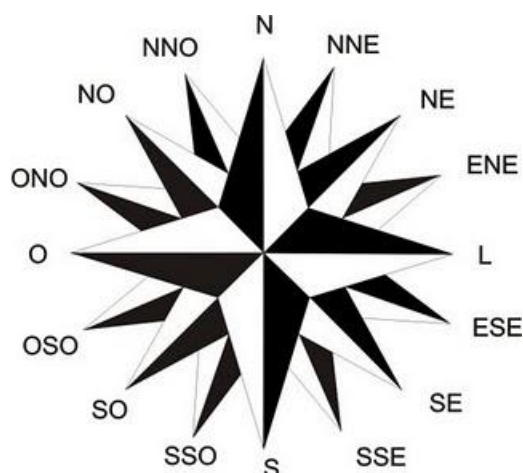
Questão 1. Indique os nomes e siglas das seguintes orientações geográficas:

a) Norte N, Sul S, Leste L e Oeste O.

b) Nordeste NE, Sudeste SE, Sudoeste SO e Noroeste NO.


c) Norte-Nordeste NNE, Leste-Nordeste ENE, Leste-Sudeste ESSE, Sul-Sudeste SSE, Sul-Sudoeste SSO, Oeste-Sudoeste OSO, Oeste-Noroeste ONO e Norte-Noroeste NNO.

Questão 2. Preencha a Rosa dos ventos a seguir.



Questão 3. Observe o esquema a seguir.

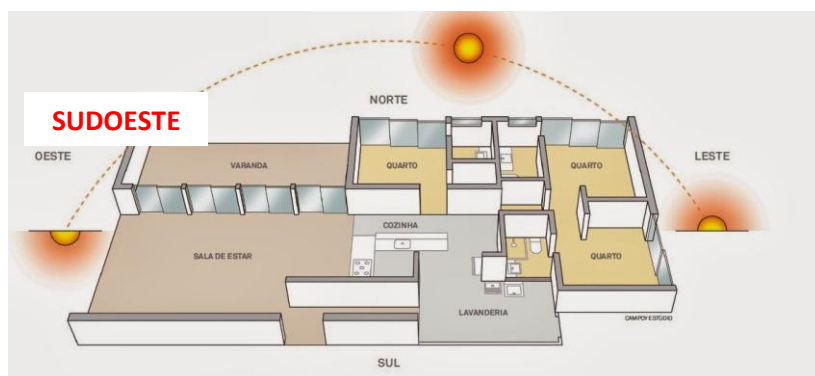




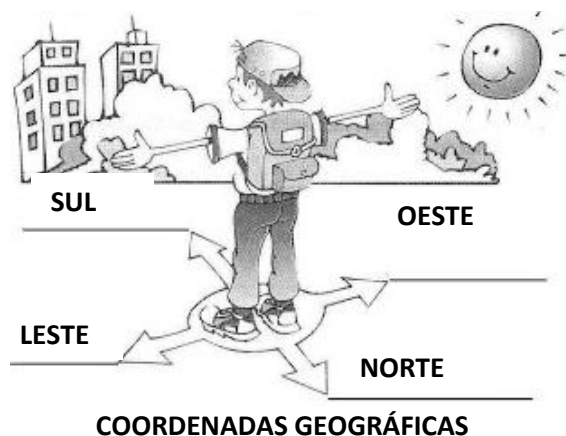
A representação do menino acima registra 17h. Com base nos estudos feitos em sala de aula, indique o Ponto Cardeal Sul.

Questão 4. Leia o esquema abaixo.

A sala de estar está posicionada em qual orientação geográfica?



Questão 5. Sabendo-se que são 16h30min, complete as informações do desenho abaixo.



Questão 6. Analise e julgue se as frases a seguir são **verdadeiras** ou **falsas**:

a	verdadeiro
b	verdadeiro
c	falso
d	verdadeiro
e	verdadeiro
f	verdadeiro
g	falso
h	verdadeiro
i	verdadeiro
j	falso

Questão 7. Faça a indicação das coordenadas geográficas dos pontos indicados abaixo, conforme exemplo a seguir.

PONTO	LATITUDE	LONGITUDE
B	Lat. 40° S	Long. 60° L
C	Lat. 70° S	Long. 120° O
D	Lat. 50° N	Long. 135° O
E	Lat. 70° N	Long. 150° L
F	Lat. 40° N	Long. 60° L
G	Lat. 20° S	Long. 90° O
H	Lat. 20° N	Long. 15° O
I	Lat. 60° S	Long. 45° L
J	Lat. 60° S	Long. 165° L
R	Lat. 90° N	Long. 0°
Q	Lat. 0°	Long. 0°

Bons estudos.
Abração do Profão!!