

ORIENTAÇÃO GEOGRÁFICA

1º EM

GEOGRAFIA FÍSICA

Prof. LUIZ GUSTAVO

1º Bimestre

PROFÃO

Lista de exercícios complementares 2

ORIENTAÇÃO GEOGRÁFICA

COORDENADAS GEOGRÁFICA

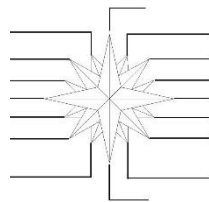
Utilize o **material de apoio**, disponível no site, para fazer esses exercícios.

Observação: **NÃO** é obrigatória a impressão deste material. Coloque, somente, as respostas das questões em seu caderno.

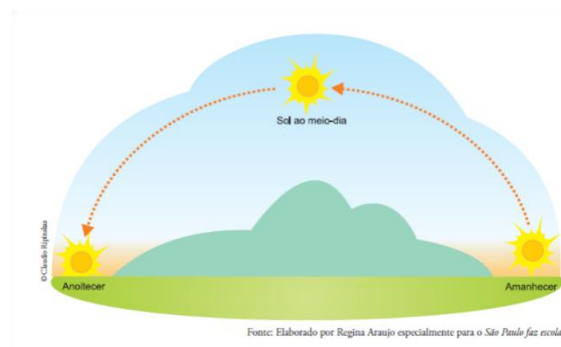
Questão 1. Indique os nomes e siglas das seguintes orientações geográficas:

- a) Pontos Cardeais.
- b) Pontos Colaterais
- c) Pontos Subcolaterais

Questão 2. Preencha a Rosa dos ventos a seguir.



MOVIMENTO APARENTE DO SOL

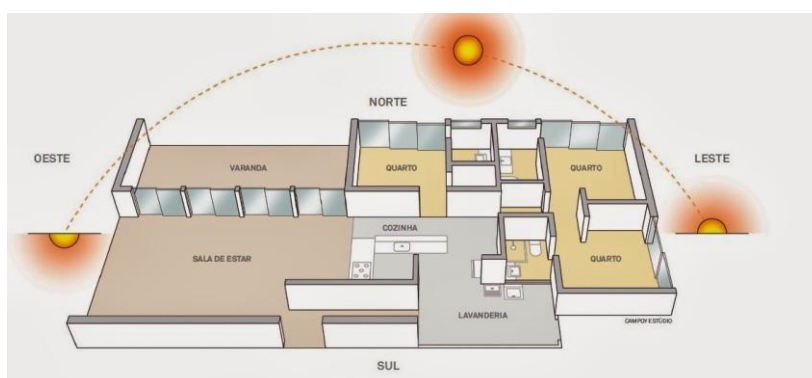


Questão 3. Observe o esquema a seguir.




A representação do menino acima registra 17h. Com base nos estudos feitos em sala de aula, indique o Ponto Cardeal Sul.

Questão 4. Leia o esquema abaixo.



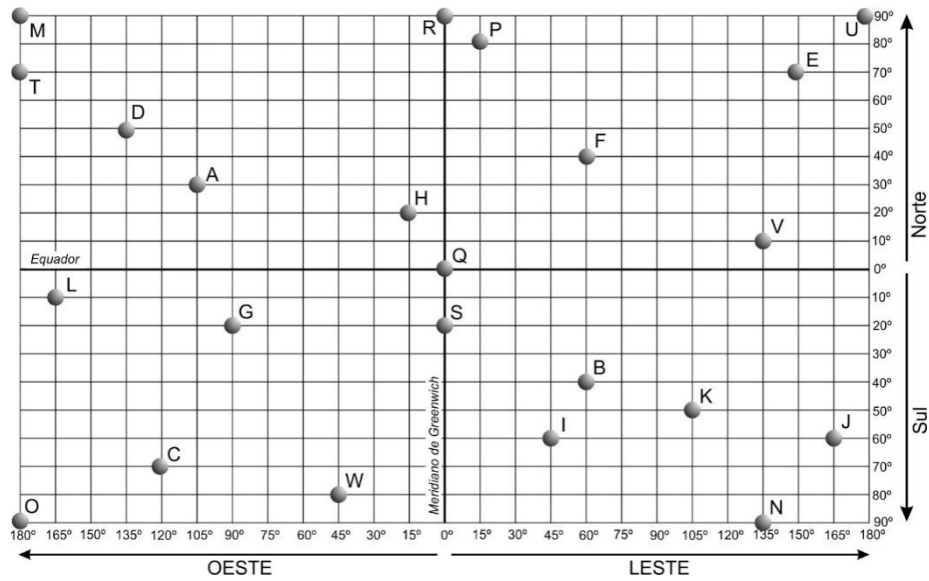
A sala de estar está posicionada em qual orientação geográfica?

Questão 5. Sabendo-se que são 16h30min, complete as informações do desenho abaixo.



COORDENADAS GEOGRÁFICAS

Para fazer as questões 6 e 7, utilize o planisfério a seguir como referência.



Questão 6. Analise e julgue se as frases a seguir são **verdadeiras** ou **falsas**:

- O ponto **C** está nos Hemisférios Sul e Oeste.
- O ponto **F** está nos Hemisférios Setentrional e Nascente.
- O ponto **A** está nos Hemisférios Boreal e Oriental.
- A diferença longitudinal (em graus), entre os pontos **D** e **A**, são de 30°.
- A diferença longitudinal (em graus), entre os pontos **L** e **I**, são de 210°.
- A diferença longitudinal (em graus), entre os pontos **L** e **S**, são de 165°.
- A diferença latitudinal (em graus), entre os pontos **A** e **B**, são de 165°.
- A diferença latitudinal (em graus), entre os pontos **G** e **C**, são de 50°.
- A diferença latitudinal (em km), entre os pontos **D** e **O**, são de aproximadamente 15.556,8 km.
- A diferença latitudinal (em km), entre os pontos **I** e **N**, são de aproximadamente 3.600 km.

Questão 7. Faça a indicação das coordenadas geográficas dos pontos indicados abaixo, conforme exemplo a seguir.

Ponto A. Lat. 30° Norte e Long. 105° Oeste.

Pontos: **B, C, D, E, F, G, H, I** e **J**. Na feitura dos exercícios, utilize também, os termos Austral, Meridional, Boreal, Setentrional, Oriental, Nascente, Ocidental e poente.

*Bons estudos.
Abração do Profão!!*